

第 5 章 : 周波数応答

5.3 ボード線図

キーワード : **ボード線図, ゲイン曲線
位相曲線**

学習目標 : **ボード線図を用いて周波数特性を図式的に表すことができるようになる。**

5 周波数応答

5.3 ボード線図

周波数 ω に対し $\left\{ \begin{array}{l} |G(j\omega)| \text{ の変化を表すゲイン曲線} \\ \angle G(j\omega) \text{ の変化を表す位相曲線} \end{array} \right.$

横軸: 周波数 ω を対数目盛り $\omega_2 = 10\omega_1$ 1 デカード(dec)

縦軸: ゲイン曲線 $20 \log_{10} |G(j\omega)|$ デシベル値(dB)

位相曲線 ($^\circ$) 度

絶対値	0.1	1	$\sqrt{2}$	2	10	100
デシベル値	-20 dB	0 dB	3 dB	6 dB	20 dB	40 dB

積分系 $G(j\omega) = \frac{1}{j\omega}$

ゲイン(デシベル値)

$$20 \log |G(j\omega)| = 20 \log \left| \frac{1}{j\omega} \right|$$

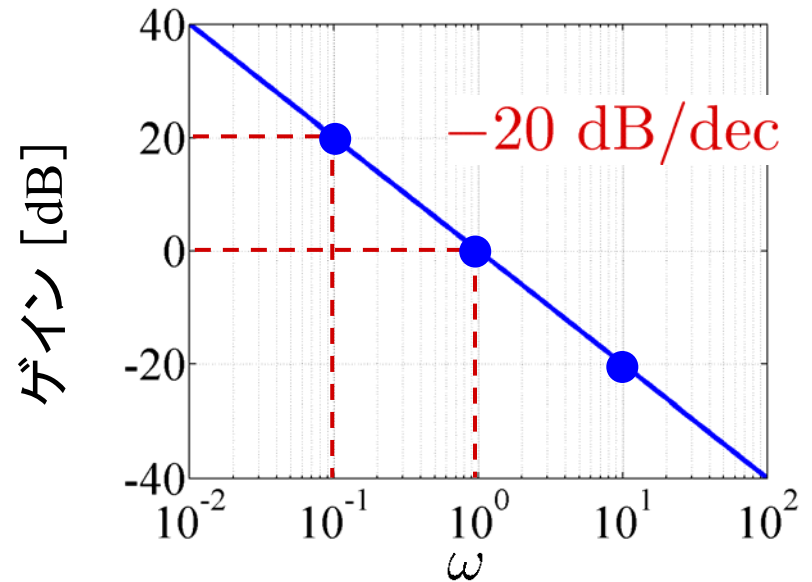
$$= 20 \log \frac{1}{|\omega|} = -20 \log |\omega|$$

$$\left\{ \begin{array}{l} \omega = 0.1 \\ -20 \log 0.1 = -20 \times (-1) = 20 \text{ dB} \\ \omega = 1 \\ -20 \log 1 = -20 \times 0 = 0 \text{ dB} \\ \omega = 10 \\ -20 \log 10 = -20 \times 1 = -20 \text{ dB} \end{array} \right.$$

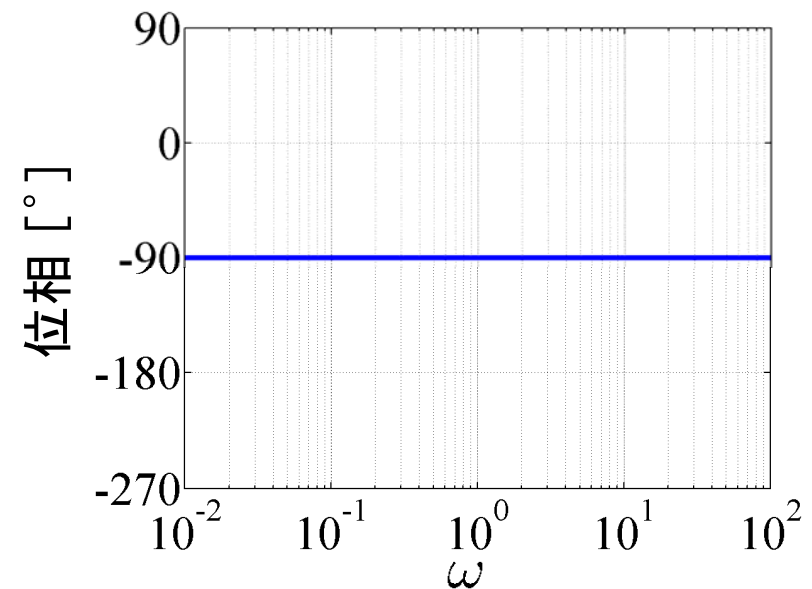
位相

$$\angle G(j\omega) = \angle \frac{1}{j\omega} = \angle \frac{1}{j} = \angle 1 - \angle j$$

$$= 0 - 90 = -90^\circ$$



(a) ゲイン線図



(b) 位相線図

2重積分系 $G(j\omega) = \frac{1}{(j\omega)^2}$

ゲイン(デシベル値)

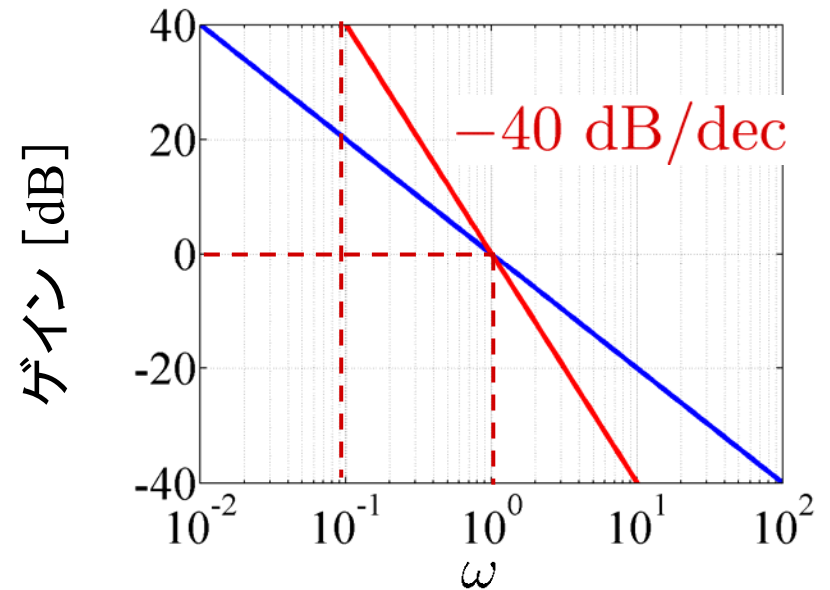
$$20 \log \frac{1}{|(j\omega)^2|} = 20 \log \frac{1}{\omega^2}$$

$$= 20 \log \omega^{-2} = -40 \log |\omega|$$

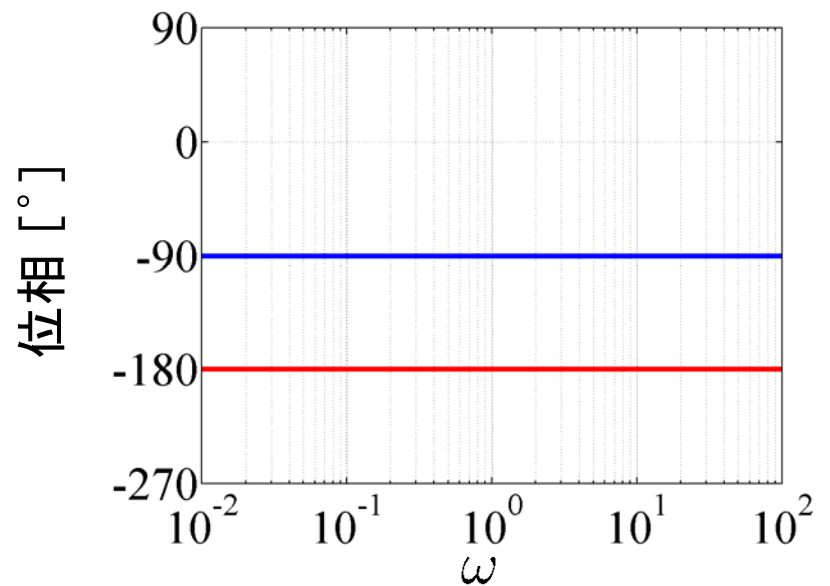
位相

$$\angle G(j\omega) = \angle \frac{1}{j^2} = \angle 1 - \angle j^2$$

$$= 0 - 180 = -180^\circ$$



(a) ゲイン線図



(b) 位相線図

図 5.6 積分系のボード線図

1 次系 $G(j\omega) = \frac{1}{1 + j\omega T}$

ゲイン(デシベル値)

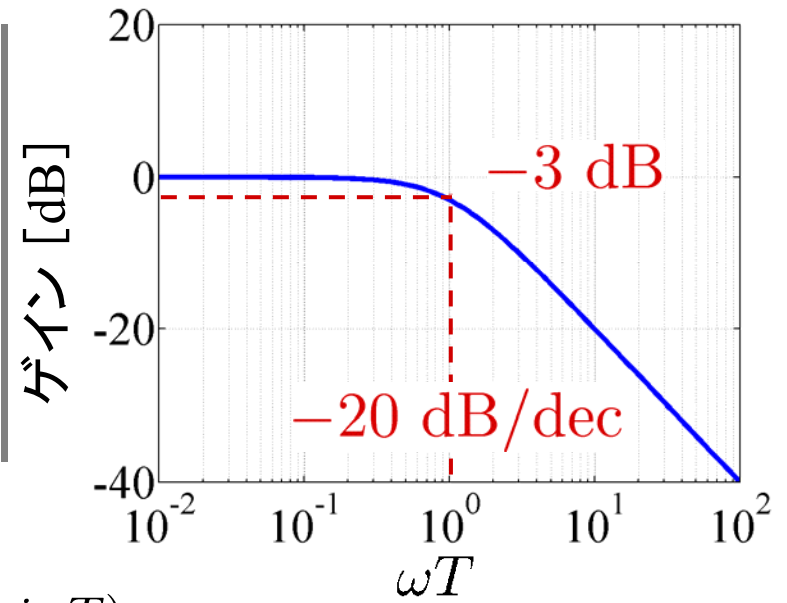
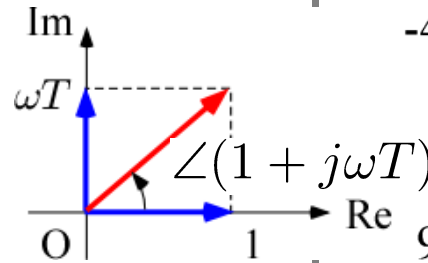
$$20 \log |G(j\omega)| = 20 \log \frac{1}{\sqrt{1 + (\omega T)^2}}$$

位相

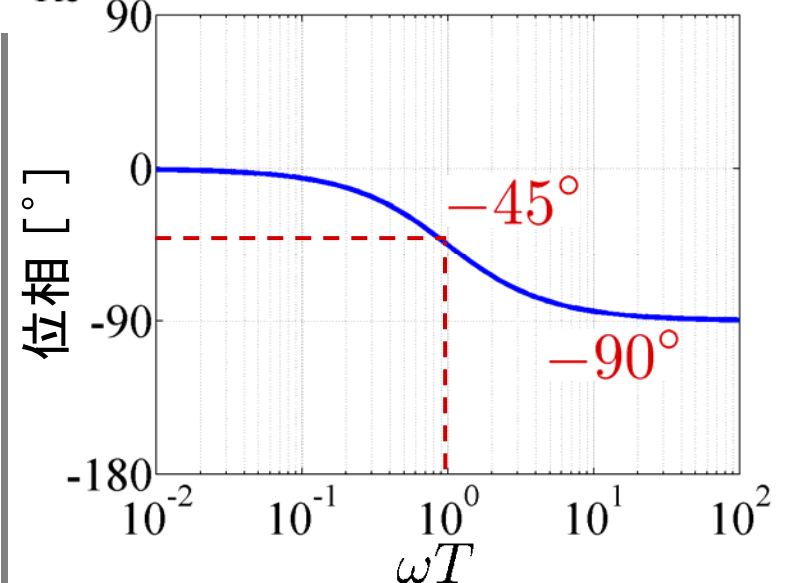
$$\begin{aligned} \angle G(j\omega) &= \angle 1 - \angle(1 + j\omega T) \\ &= -\angle(1 + j\omega T) \end{aligned}$$

$$\omega T \ll 1 \quad G(j\omega) \approx 1$$

$$\omega T \gg 1 \quad G(j\omega) \approx \frac{1}{j\omega T}$$



(a) ゲイン線図



(b) 位相線図

$$\left[\begin{array}{l} \omega T \ll 1 \quad 20 \log |G| \approx 20 \log 1 = 0 \text{ dB} \\ \quad \quad \quad \angle G = 0^\circ \\ \omega T = 1 \quad 20 \log |G| = 20 \log \frac{1}{\sqrt{2}} = -3 \text{ dB} \\ \quad \quad \quad \angle G = -45^\circ \\ \omega T \gg 1 \quad 20 \log |G| \approx -20 \log |\omega T| \text{ dB} \\ \quad \quad \quad \angle G \approx -90^\circ \end{array} \right.$$

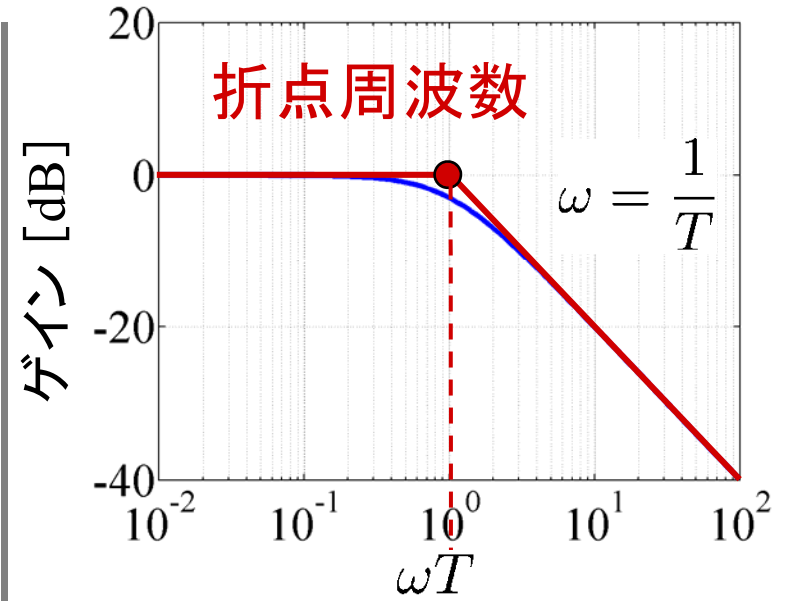
図 5.7 1 次系のボード線図₅

折れ線近似

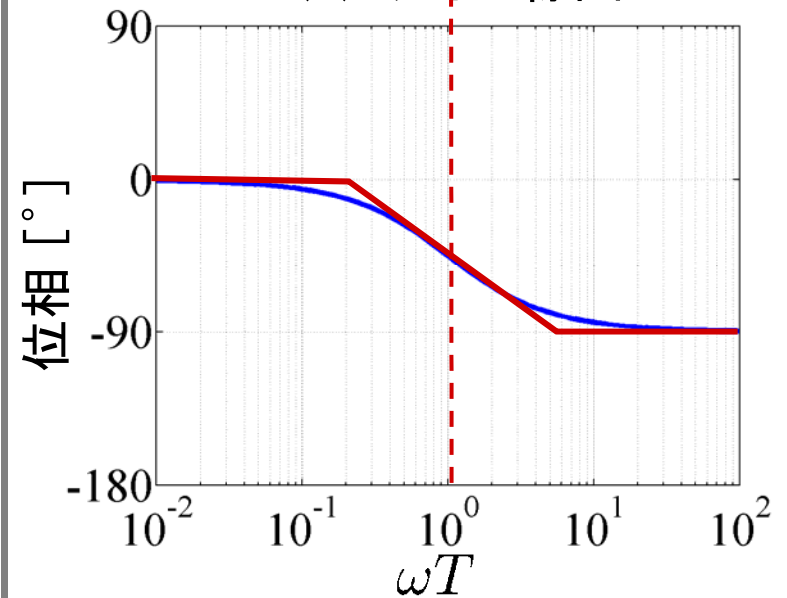
(ゲイン) 0 dB と -20 dB/dec
の 2 本の直線

(位相) $\omega \leq \frac{0.2}{T}$ で 0°

$\omega \geq \frac{5}{T}$ で -90°



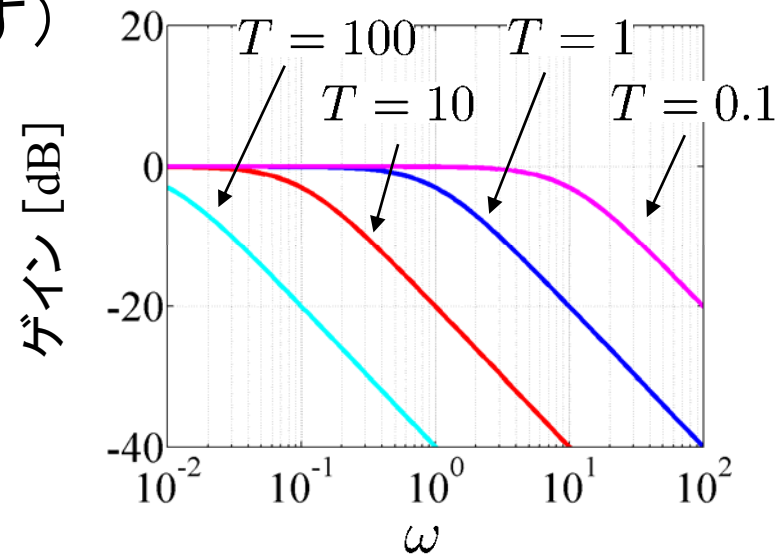
(a) ゲイン線図



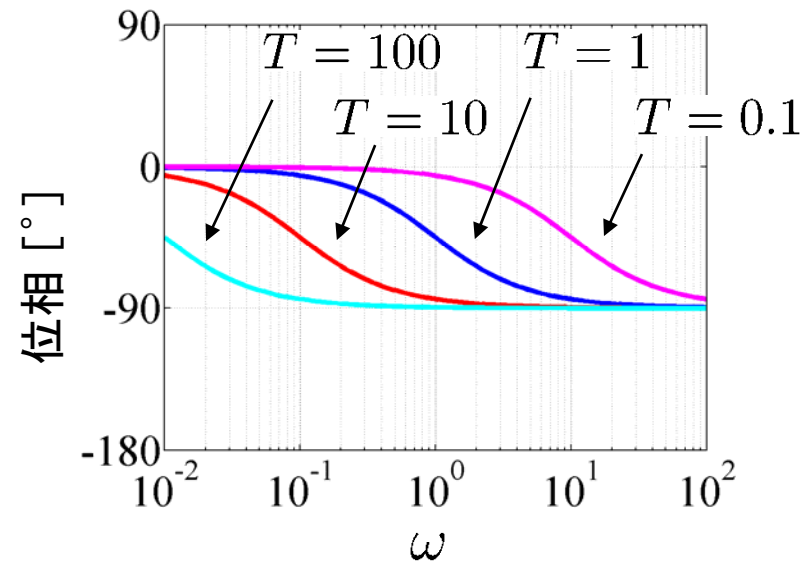
(b) 位相線図

図 5.7 1 次系のボード線図₆

T が変化しても(形を変えず)
横軸方向に平行移動



(a) ゲイン線図

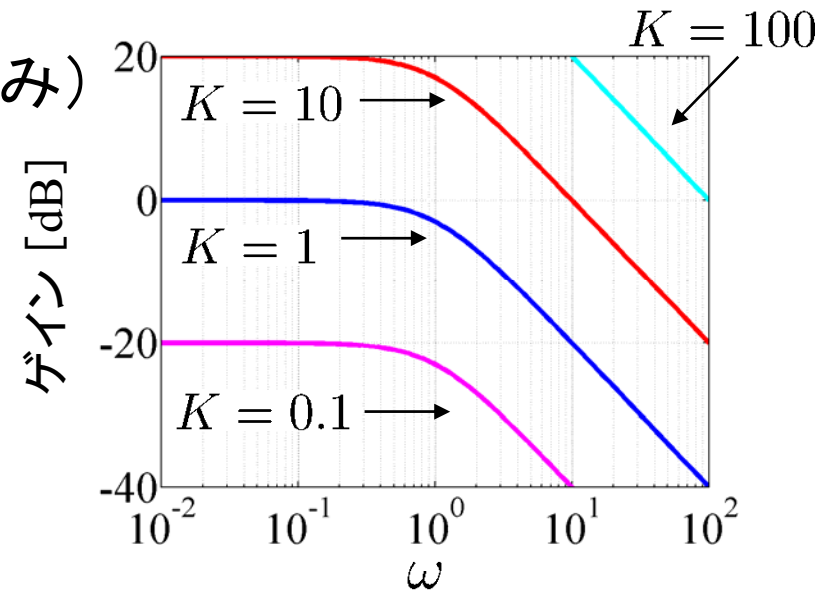


(b) 位相線図

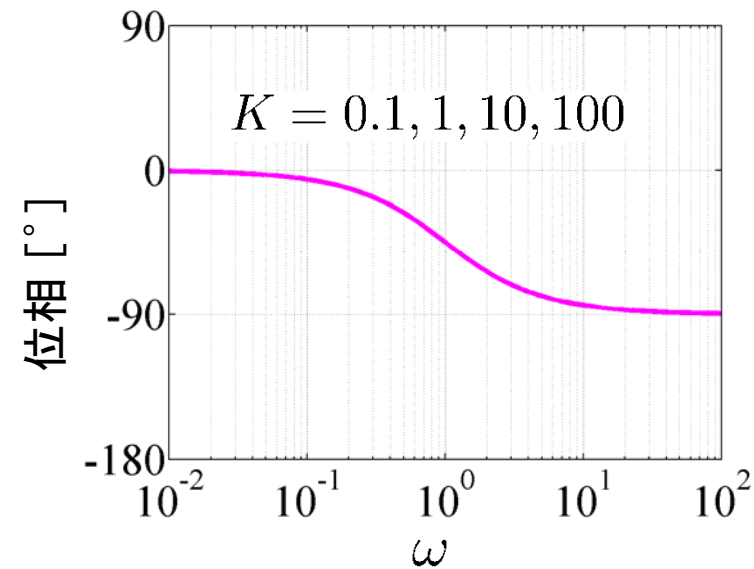
図 5.8 種々の時定数に対する 1 次系のボード線図 7

ゲイン K 倍しても(形を変えず)
縦軸方向に平行移動(ゲインのみ)

$$G(j\omega) = \frac{K}{1 + j\omega T} \quad (T = 1)$$



(a) ゲイン線図



(b) 位相線図

2次系 $G(s) = \frac{\omega_n^2}{s^2 + 2\zeta\omega_n s + \omega_n^2} \quad (K = 1)$

周波数伝達関数

$$\begin{aligned} G(j\omega) &= \frac{\omega_n^2}{(j\omega)^2 + 2\zeta\omega_n(j\omega) + \omega_n^2} = \frac{1}{\left(j\frac{\omega}{\omega_n}\right)^2 + 2\zeta\frac{\omega}{\omega_n}j + 1} \\ &= \frac{1}{(j\Omega)^2 + 2\zeta\Omega j + 1} = \frac{1}{1 - \Omega^2 + j2\zeta\Omega} \quad \left(\Omega = \frac{\omega}{\omega_n}\right) \end{aligned}$$

ゲイン

$$|G(j\omega)| = \frac{1}{\sqrt{(1 - \Omega^2)^2 + (2\zeta\Omega)^2}}$$

位相

$$\angle G(j\omega) = -\angle (1 - \Omega^2 + j2\zeta\Omega)$$

2次系 $G(j\omega) = \frac{\omega_n^2}{(j\omega)^2 + 2\zeta\omega_n(j\omega) + \omega_n^2}$
 $= \frac{1}{1 - \Omega^2 + j2\zeta\Omega}$

ゲイン(デシベル値)

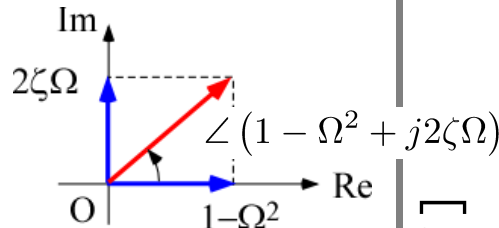
$$20 \log |G(j\omega)| = 20 \log \frac{1}{\sqrt{(1 - \Omega^2)^2 + (2\zeta\Omega)^2}}$$

位相

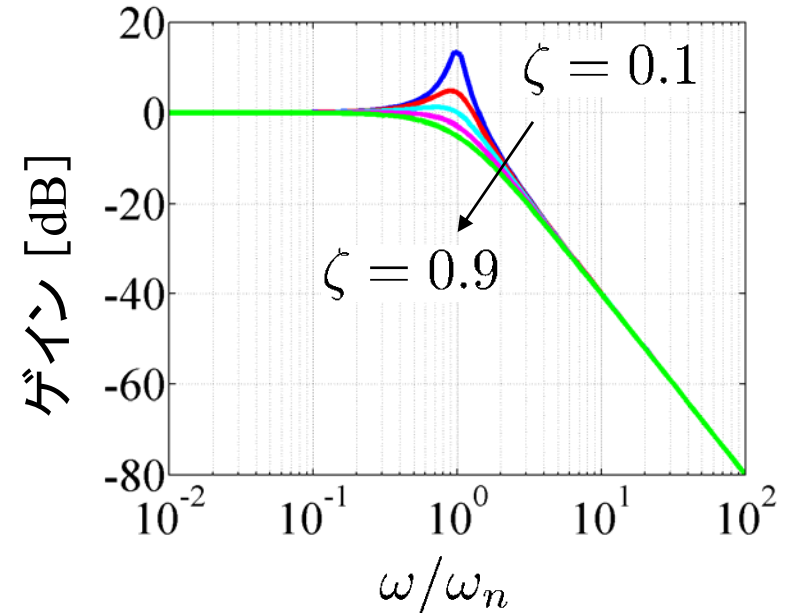
$$\angle G(j\omega) = -\angle (1 - \Omega^2 + j2\zeta\Omega)$$

$$\Omega \ll 1 \quad G(j\omega) \approx 1$$

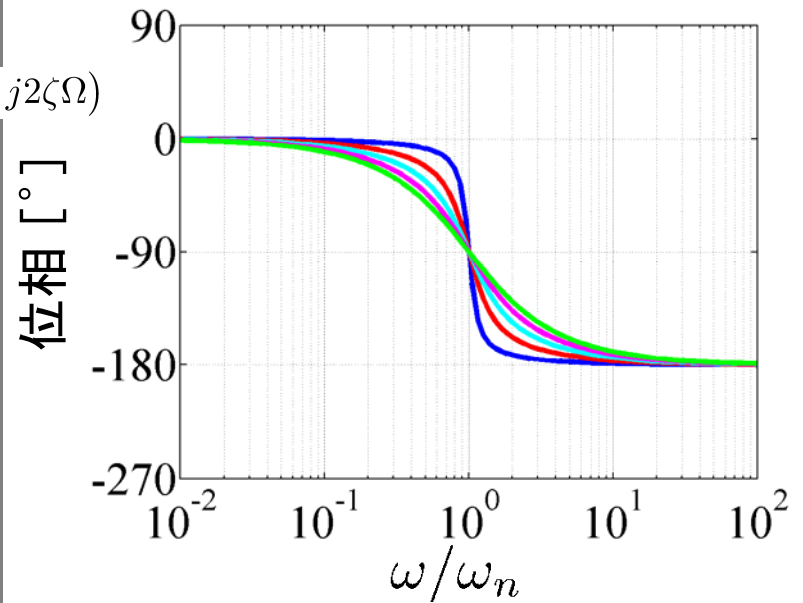
$$\Omega \gg 1 \quad G(j\omega) \approx \frac{1}{-\Omega^2}$$



$$\left(\begin{array}{l} \Omega \ll 1 \quad 20 \log |G| = 20 \log 1 \approx 0 \text{ dB} \\ \quad \quad \quad \angle G \approx 0^\circ \\ \Omega = 1 \quad 20 \log |G| = 20 \log \left| \frac{1}{2\zeta} \right| \text{ dB} \\ \quad \quad \quad \angle G = -90^\circ \\ \Omega \gg 1 \quad 20 \log |G| \approx -40 \log |\Omega| \text{ dB} \\ \quad \quad \quad \angle G \approx -180^\circ \end{array} \right.$$



(a) ゲイン線図



(b) 位相線図

$\Omega = 0$	$ G = 1$	$\angle G = (-0^\circ) = 0^\circ$
$\Omega = 1$	$ G = \frac{1}{2\zeta}$	$\angle G = -90^\circ$
$\Omega \approx \infty$	$ G \approx 0$	$\angle G \approx -180^\circ$

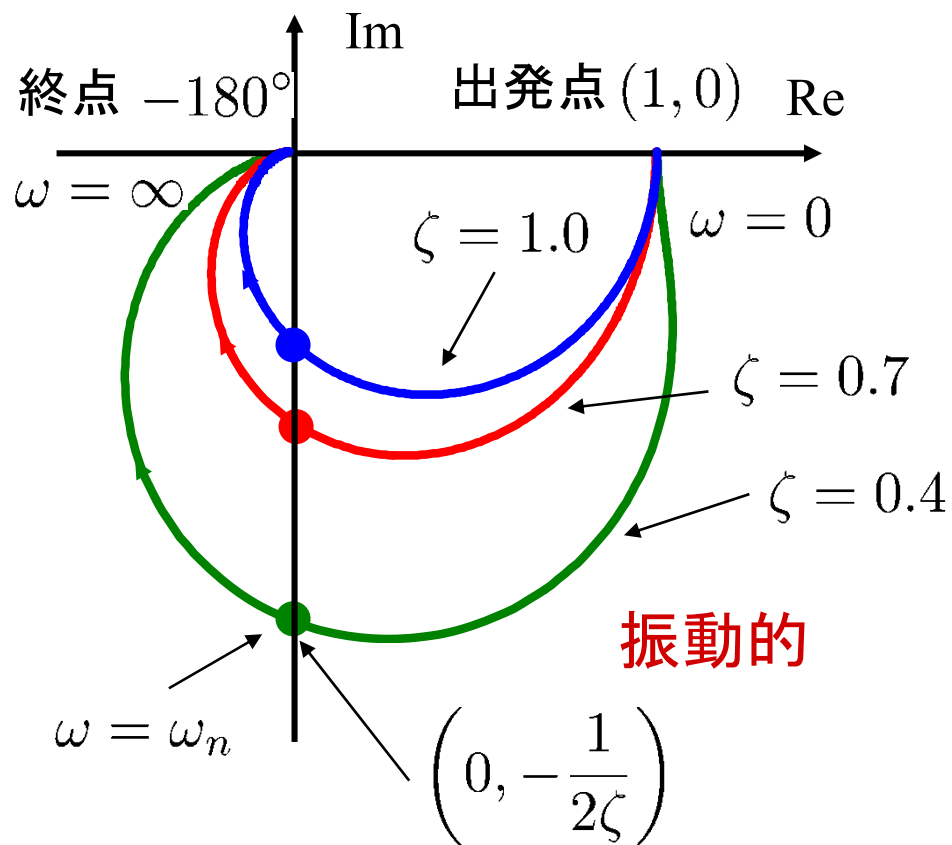
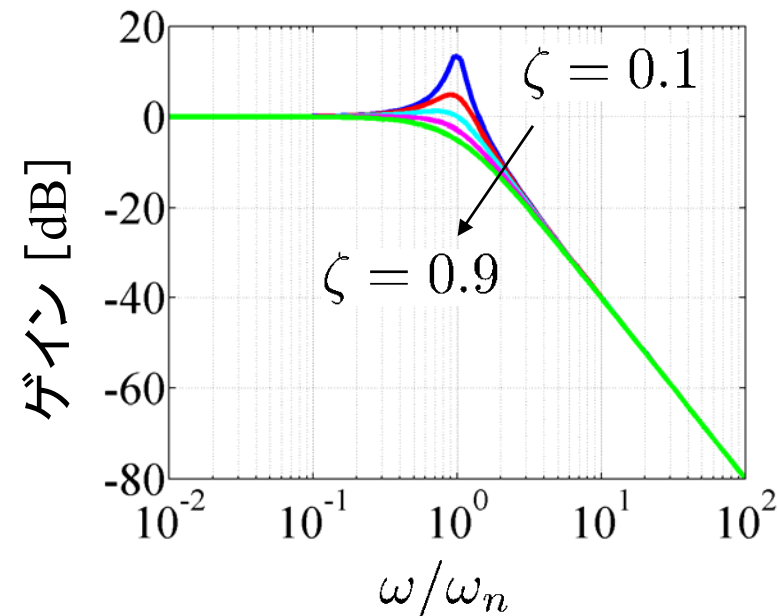
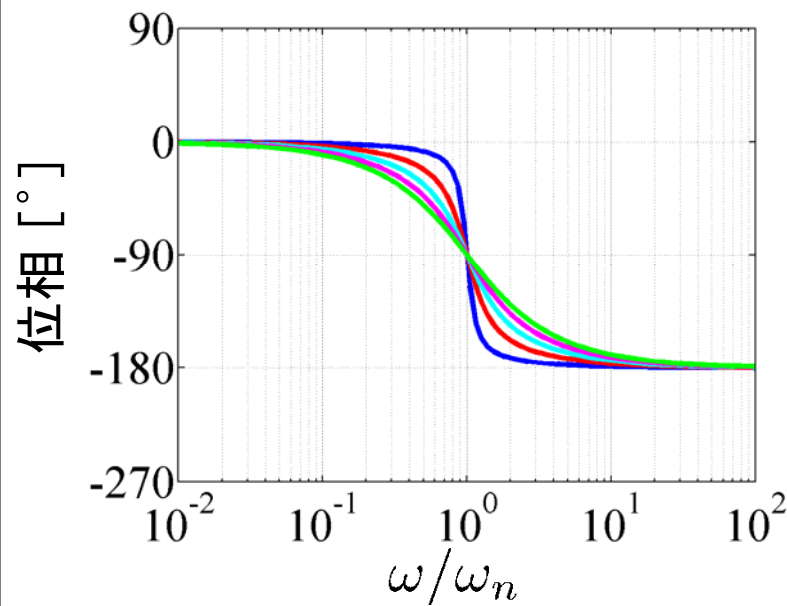


図 5.5 2次系のベクトル軌跡



(a) ゲイン線図



(b) 位相線図

$G^{-1}(s)$ (逆システム) のボード線図

ゲイン

$$20 \log \left| \frac{1}{G(j\omega)} \right| = -20 \log |G(j\omega)|$$

位相

$$\angle \frac{1}{G(j\omega)} = -\angle G(j\omega)$$

逆システムでは、ゲインと位相の符号を反転

表 5.1 基本要素のボード線図

$G(s)$	ゲイン曲線	位相曲線
K		
s		
$\frac{1}{s}$		
$Ts + 1$		
$\frac{1}{Ts + 1}$		
$\frac{\omega_n^2}{s^2 + 2\zeta\omega_n s + \omega_n^2}$		

第 5 章 : 周波数応答

5.3 ボード線図

キーワード : **ボード線図, ゲイン曲線
位相曲線**

学習目標 : **ボード線図を用いて周波数特性を図式的に表すことができるようになる。**